





ちすきごう
地図記号れんしゅうプリント

3年()組 ()番
名前 _____

◎教科書34ページ・35ページをみながら、下の地図記号に当てはまるたてものやしせつ、土地の利用のようすなどを、□から選んで書きましょう。

ちすきごう 地図記号	たてもの、 しせつ、 土地の利用のようす		
(例) 	おんせん 温泉		
			
			
			
			
			
			
			
			
			
			

学校	じんじゃ 神社	しょう 消ぼうしょ	はし 橋	みなと 港	工場	えき 駅
としょかん 図書館	けいさつしょ	寺	しやくしょ 市役所	はくぶつかん はくぶつ館	田	
ゆうびんきょく ゆうびん局	びょういん 病院	ろうじん 老人ホーム	はつでんしょ 発電所	はたけ 畑	てつどう 鉄道	
かじゅえん	おんせん 温泉					