


















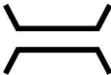


◎教科書34ページ・35ページをみながら、下の地図記号に当てはまるたてものやしせつ、土地の利用のようすなどを、□から選んで書きましょう。

ちずきごう 地図記号	たてもの、 しせつ、 土地の利用のようす		びょういん 病院
(例) 	おんせん 温泉		ろうじん 老人ホーム
	しやくしよ 市役所		はくぶつかん はくぶつ館
	学校		ゆうびんきょく ゆうびん局
	工場		けいさつしよ
	はつでんしよ 発電所		寺
	しょう 消ぼうしよ		田
	はたけ 畑		としょかん 図書館
	かじゅ園		えき 駅
	じんじゃ 神社		てつどう 鉄道
	みなと 港		はし 橋

学校	じんじゃ 神社	しょう 消ぼうしよ	はし 橋	みなと 港	工場	えき 駅
としょかん 図書館	けいさつしよ	寺	しやくしよ 市役所	はくぶつかん はくぶつ館	田	
ゆうびんきょく ゆうびん局	びょういん 病院	ろうじん 老人ホーム	はつでんしよ 発電所	はたけ 畑	てつどう 鉄道	
かじゅ園	おんせん 温泉					