

# 3年生 社会プリント

3年( )組( )番 名前 \_\_\_\_\_

～私たちの住む「福山市」について知ろう!～

① 次のたて物<sup>もの</sup>を表す地図記号<sup>ちずきごう</sup>を□からえらび、( )にかきましょう。



〈学校〉

( )



〈寺〉

( )



〈ゆうびんきょく〉

( )



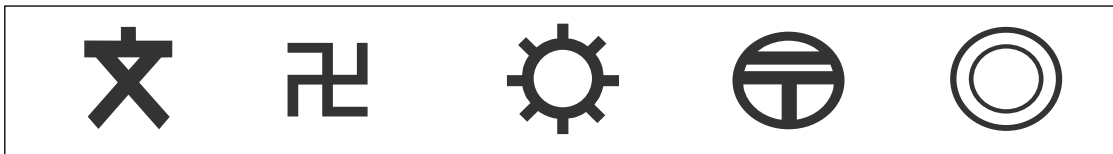
〈こうじょう〉

( )

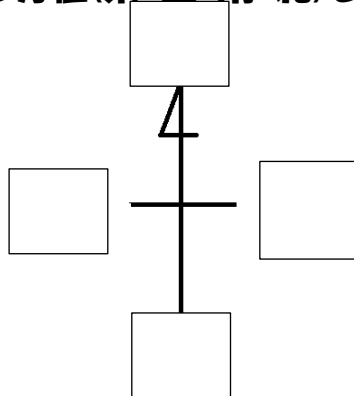


〈市役所〉

( )



② 次の( )に当てはまる方位<sup>ほうい</sup>(東・西・南・北)をかきましょう。(社会の教科書<sup>きょうかしょ</sup>8ページをさんこうにしてください。)



③ 「大好き! 福山」の35ページを読んで□には数字を、( )には言葉を書きましょう。

- ・福山市の位置…広島県( )部にある。
- ・人口…県で□番目に人口が多い町。

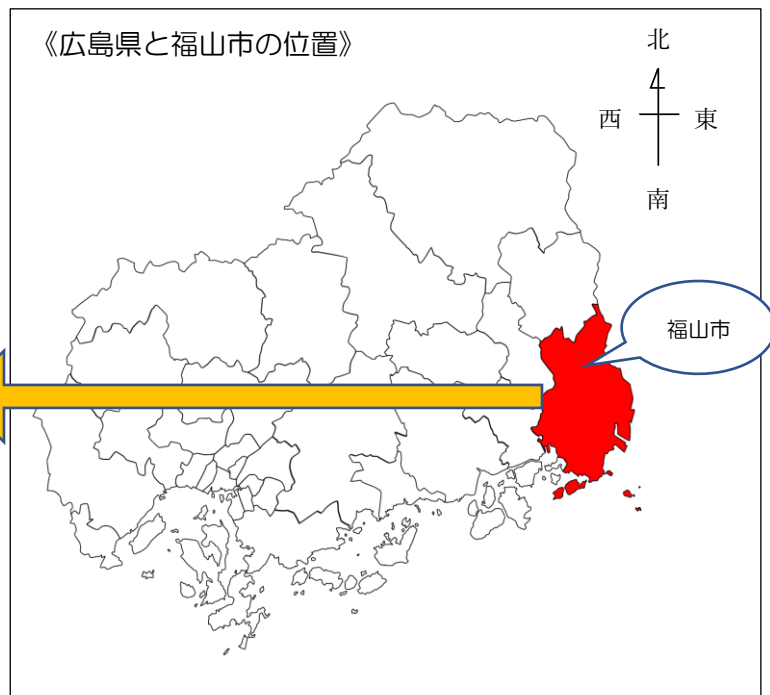
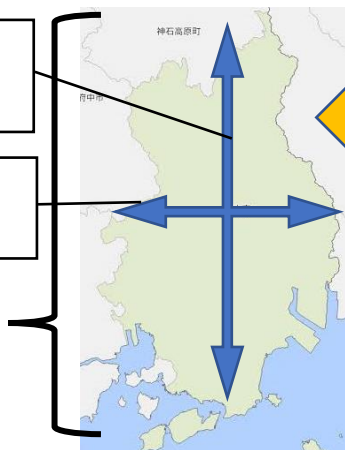
年	2016年	2019年
男	228,736人	228,688人
女	241,894人	240,480人
合計	470,630人	469,168人

・大きさ

南北(たて): 約 45.7km

東西(よこ): 約 29.5km

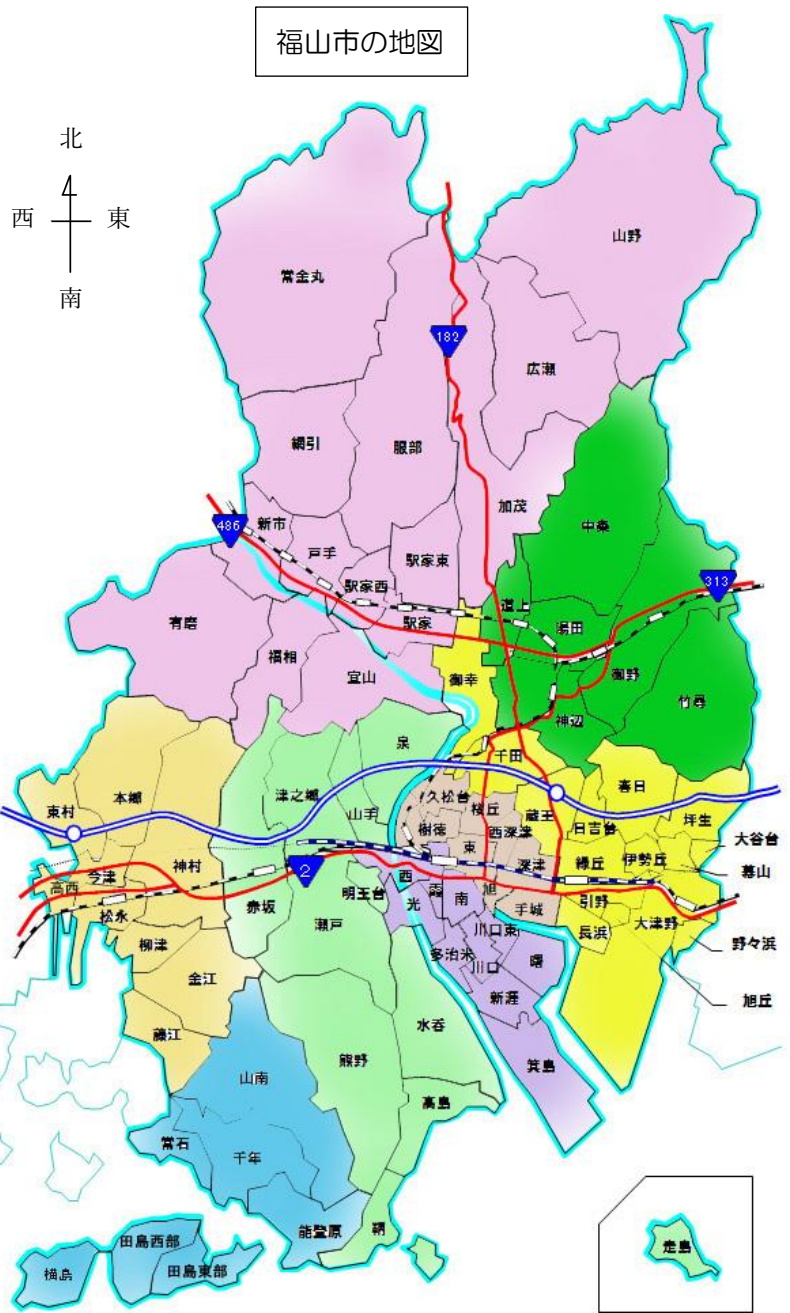
ひろ 広さ: 518.1 km<sup>2</sup>



④「大好き！福山」の36・37ページを読んで□には数字を、( )には言葉を書きま  
しょう。また、右下の福山市の地図から、場所もかくにんしてみましょう。

**A 工場の多いところ**

福山市は、( )がさかんな  
町。海をうめたててつくられた  
( )工業団地や、  
おおきな( )をはじめ、  
沼隈には( ), 神辺  
には( )関連  
の工業団地、新市から駅家・  
神辺には、( )や( )  
を作る工場がたくさんあります。



**I 田や畑の多いところ**

田や畑がたくさんあるのは、加茂  
・駅家・芦田・御幸・新市・神辺  
などの地いきで、( )作りや  
( )作りが行われています。  
また、神辺では( ), 沼隈  
では( )など、くだもの  
作りもさかんです。



しかし、田や畑があった所に  
( )や( )が建ったり、  
( )が広がったりして、近ごろ  
では、ひろびろとした田や畑のあるところが  
( )になっています。

**ウ 店の多いところ**

春日・南蔵王・駅家・瀬戸・神辺など、( )がふえている  
ところには、広いちゅう車場をもった( )や  
( )などが集まっています。





⑤ ( )から選んで□の中に当てはまる言葉をうめましょう。

たいへいよう  
太平洋

せとない  
瀬戸内

とも  
鞆

まつなが  
松永

あしだ  
芦田

いばら  
井原

2

1

さんよう  
山陽

ふくやま  
福山

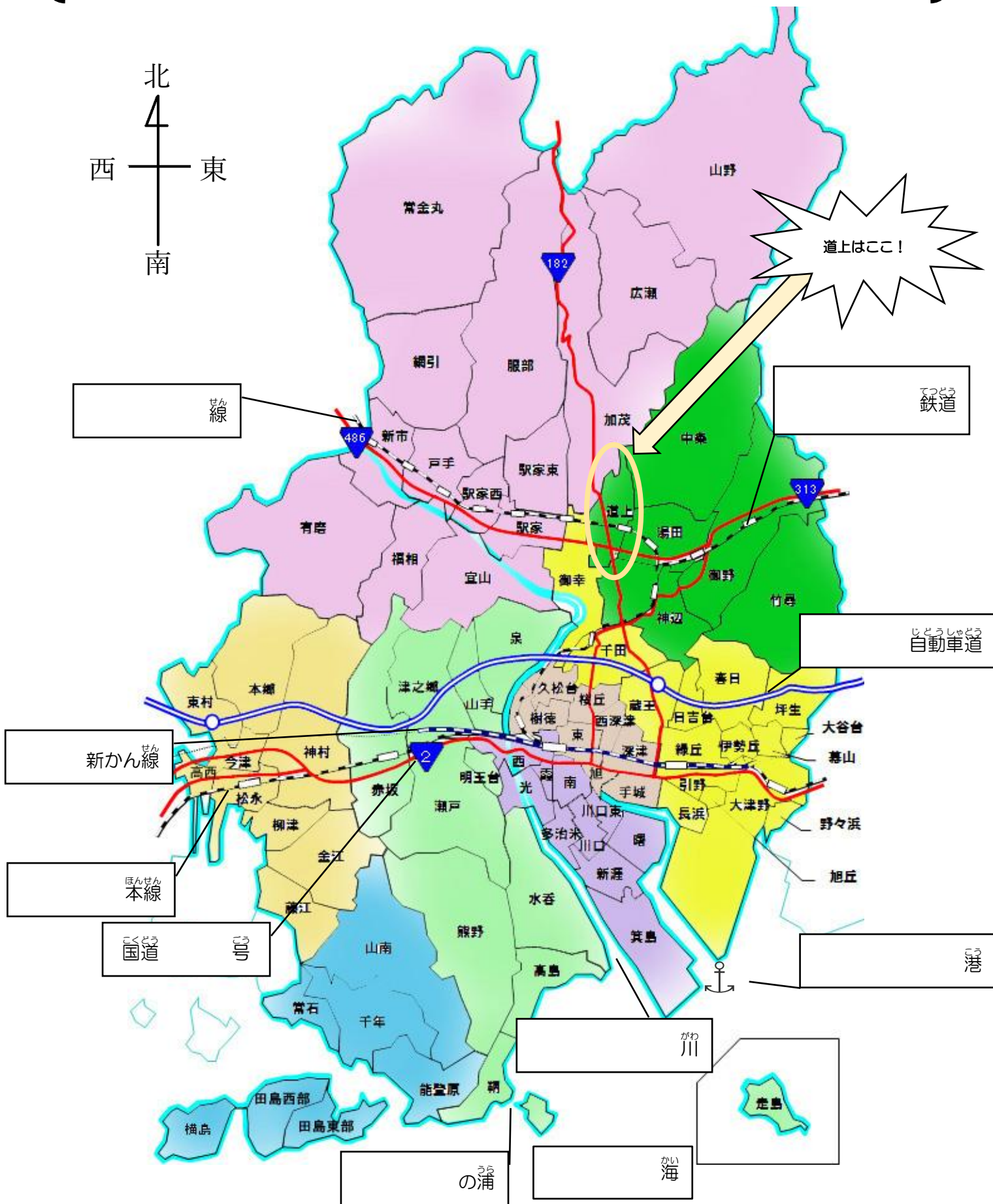
ふくえん  
福塩

みちのうえ  
道上

かも  
加茂

えきや  
駅家

かんなべ  
神辺



せん線

てつどう  
鉄道

道上はここ!

じゅうしゃどう  
自動車道

新かん線

ほんせん  
本線

こくどう  
国道

こう  
港

がわ  
川

の浦  
の浦

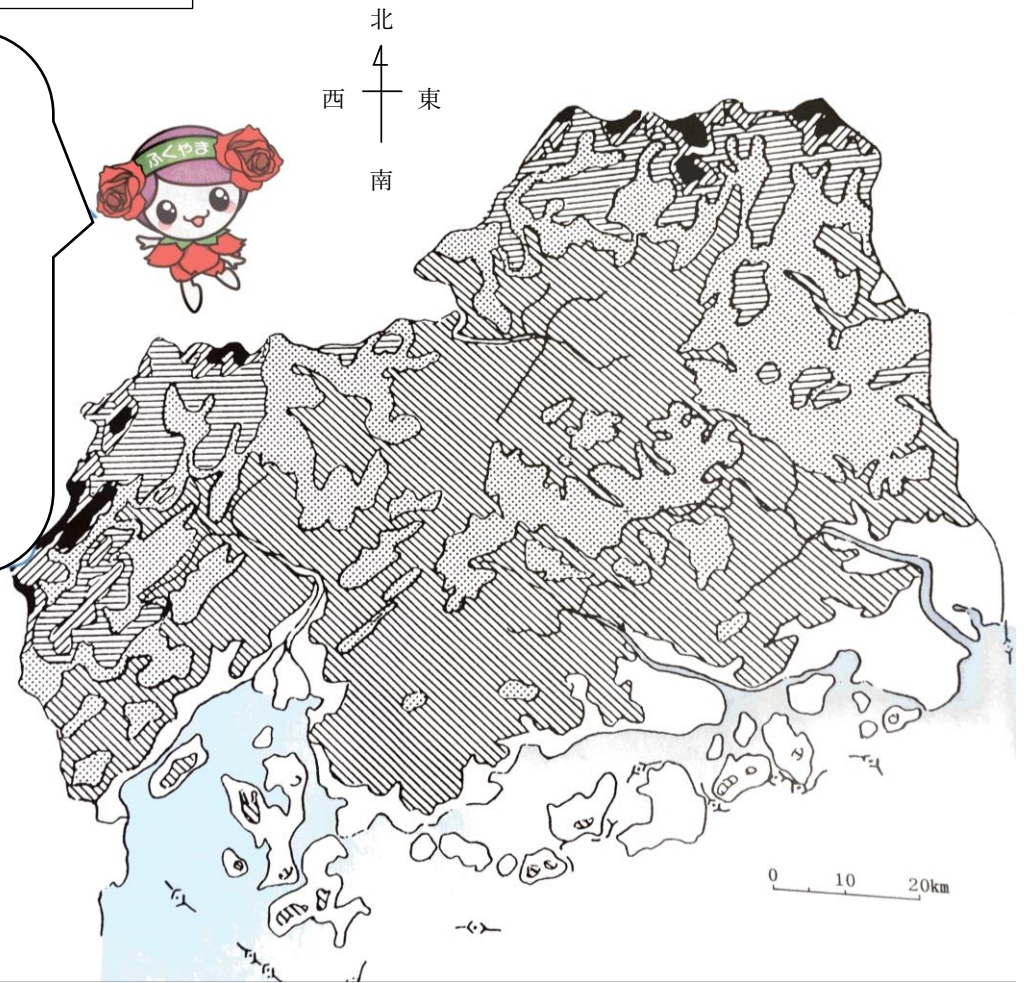

かい  
海

⑥ 色分けをして、広島県や福山市の土地のいようについて知り、気づいたことをかいてみよう。

広島県の土地のようす

① 土地の高さごとに、色分けをしてみよう！

- 100mまで (みどり色)
- 200~400m (黄色)
- 400~600m (オレンジ色)
- 600~800m (茶色)
- 800~1000m (赤色)
- 1000m以上 (黒色)







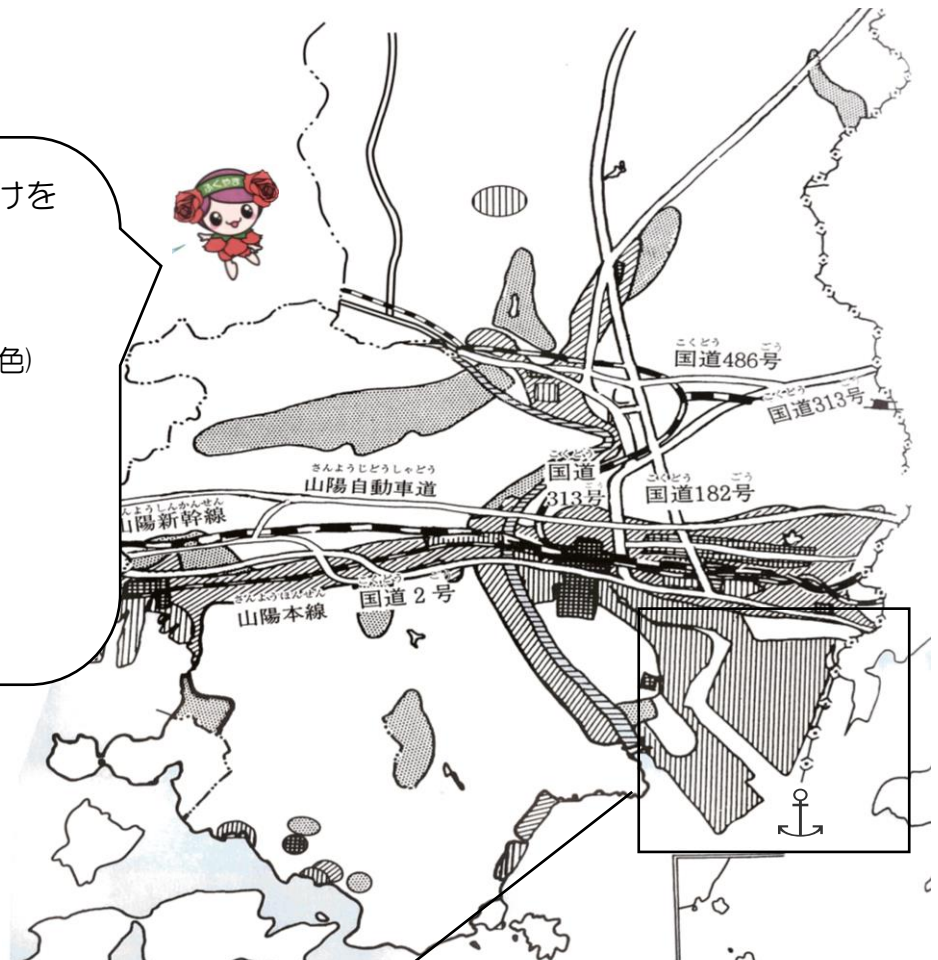
(れい)

- 広島県の北のほうに高い土地が多いことがわかった。

福山市の土地の  
りようのようす

②土地のりようについて、色分けを  
しましょう！

-  みせ おお  
店の多いところ (みどり色)
-  こうじょう おお  
工場の多いところ (黄色)
-  じゅうたく おお  
住宅の多いところ (茶色)
-  た はたけ おお  
田や畑の多いところ (赤色)



(れい)

- 福山港のまわりには、工場が多いことがわかった。

⑦福山市には、みんなのくらしをゆたかにしたり、多くの人に楽しんでいようしてもらうために作られた、こうきょうしせつがあります。

つぎの写真にあう文をえらび、\_\_\_\_\_でむすびましょう。

じんけんへいわしりょうかん  
〈人権平和資料館〉



ふくやまぶんがくかん  
〈ふくやま文学館〉



ふくやまびじゅつかん  
〈ふくやま美術館〉



こうえん  
〈バラ公園〉



ローズアリーナ



福山にゆかりのある作家の文学のしょうかいなどがされています。

じんけん  
人権や平和にかんするしりょうが、あつめられています。

体育館やプールがあり、いろいろなスポーツが楽しめます。

福山市の花がたくさん植えられ、人びとのいこいの場になっています。

福山だけでなく、世界中の画家の作品がてんじされています。

⑧ 次の絵地図を見て、しつもんにごたえましょう。



え  
絵であらわした地図

(1) 「NTT」は、「かすみ小」から見て、東・西・南・北のどの方角の位置にありますか。  
……「NTT」は、「かすみ小」から見て( )の位置にある。

(2) 「南小」は、「ゆうびんきょく」から見て、東・西・南・北のどの方角の位置にありますか。  
……「南小」は、「ゆうびんきょく」から見て( )の位置にある。

⑨【海辺で働く人々の仕事】「大好き！福山」65ページを読んで答えましょう。

(1) 漁業ぎょぎょうをする家いえのついかわりとうけい【統計福山2016年版ほん】をみると、2003年と2013年の10年間で漁業ぎょぎょうをする家いえが約100件けんへっています。その原けんいんには、どんなことがあいますか。

(2) その原けんいんの1つとして、「魚かすの数が少なくなった」ことがあります。では、魚をふやすためにどのような取とり組みをしていますか。

⑩「大好き！福山」の67ページをみて、福山市ではどのような農産物のうさんぶつや水産物すいさんぶつがとれているかまとめてみよう。

⑪「大好き！福山」を読んで福山市について学習がくしゅうをよくがんばりました。その中で、「もっと知りたいな」「ふしぎだな」と思ったことがあれば下に書きましょう。

(れい)

- ○○についてもっと知りたい。
- ~なことがふしぎだったので、△△のことについてもっとしらべてみたい。